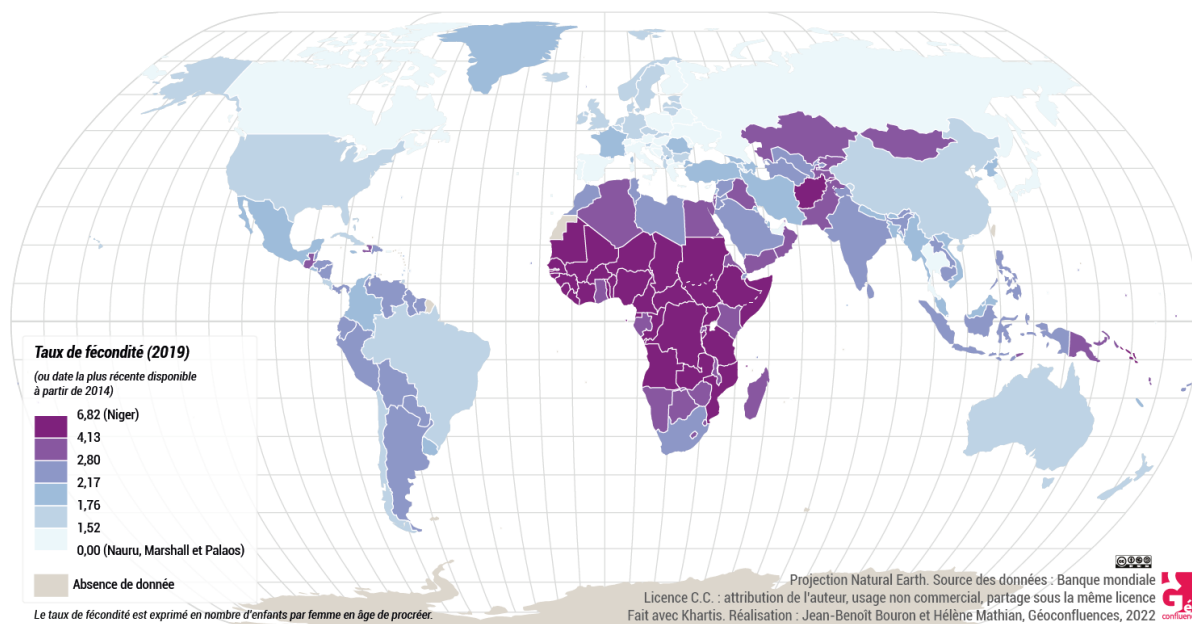


PRATIQUE 33

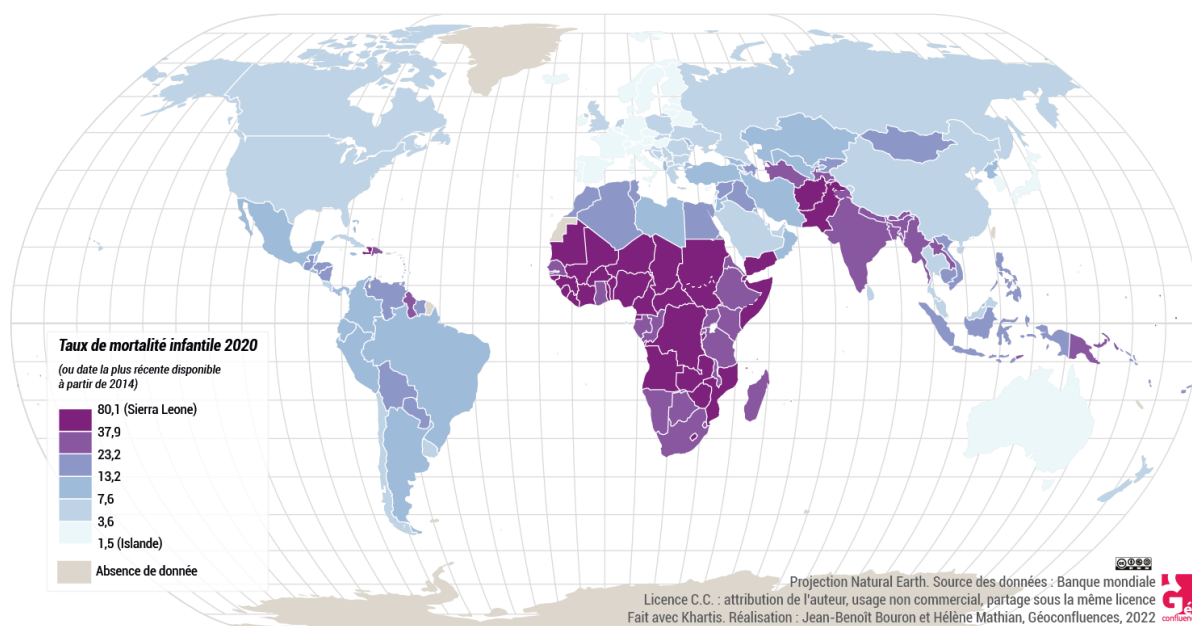
Diviser le monde en 6

Prenez connaissance des 6 cartes ci-dessous et répondez aux questions qui suivent dans votre GoogleSite :

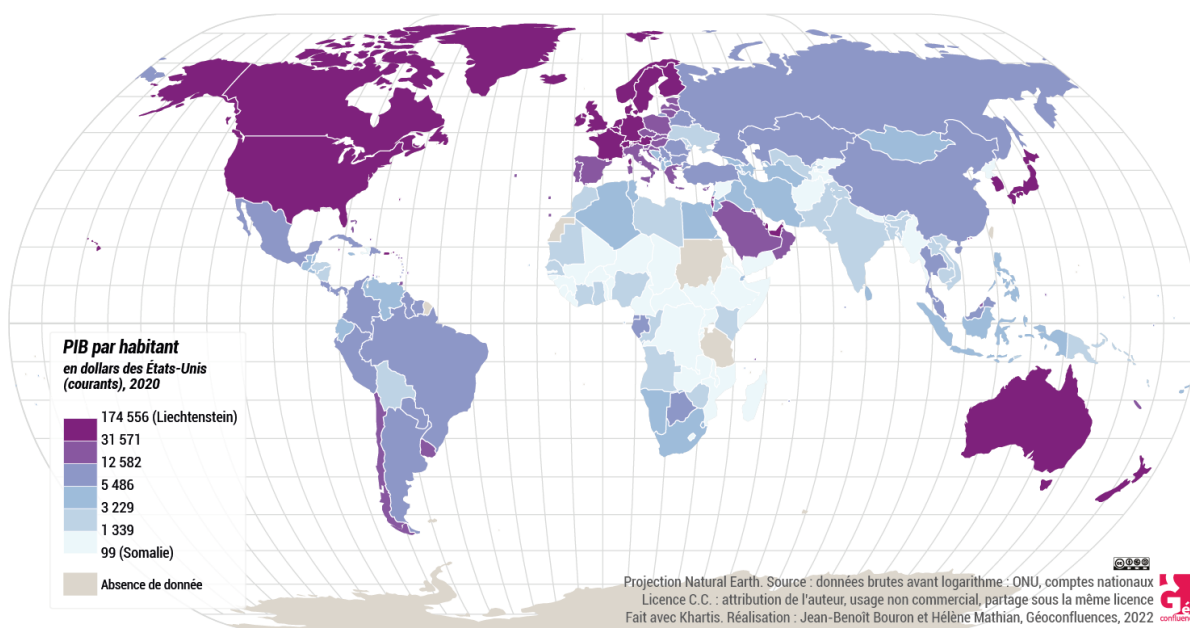
Carte A : Taux de fécondité



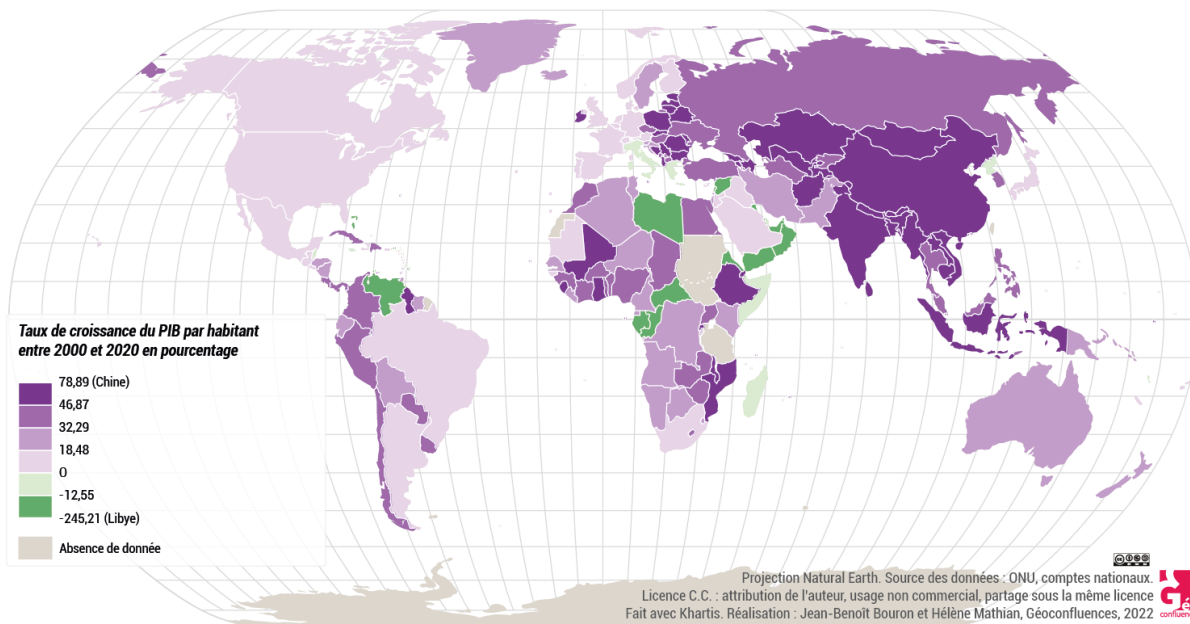
Carte B : Taux de mortalité infantile



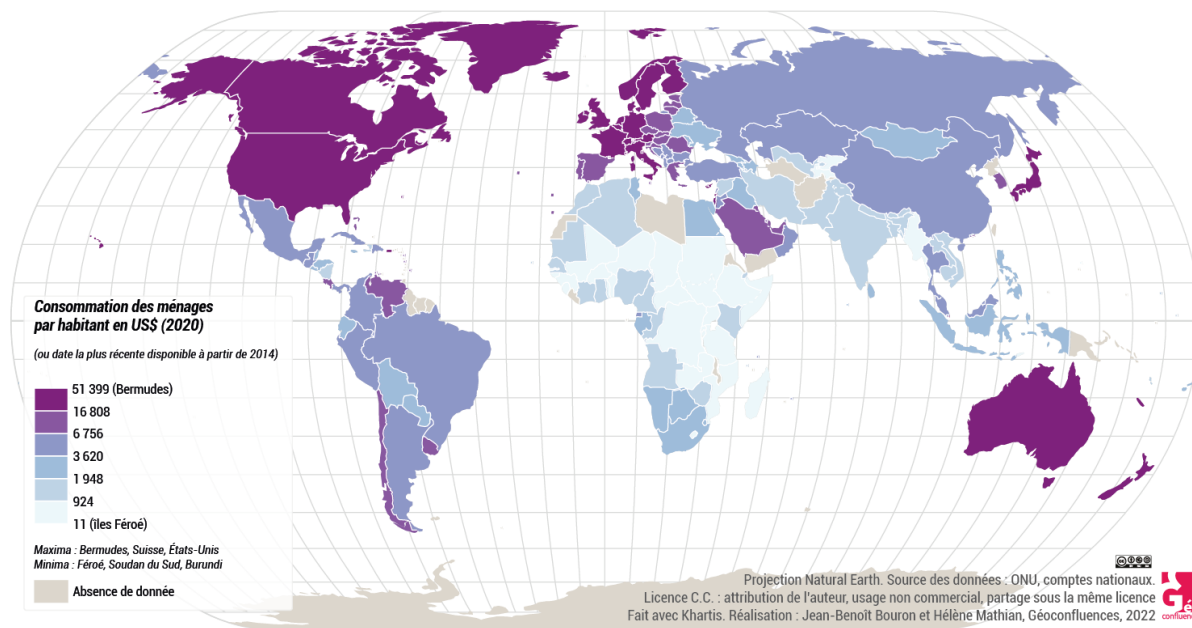
Carte C : PIB par habitant



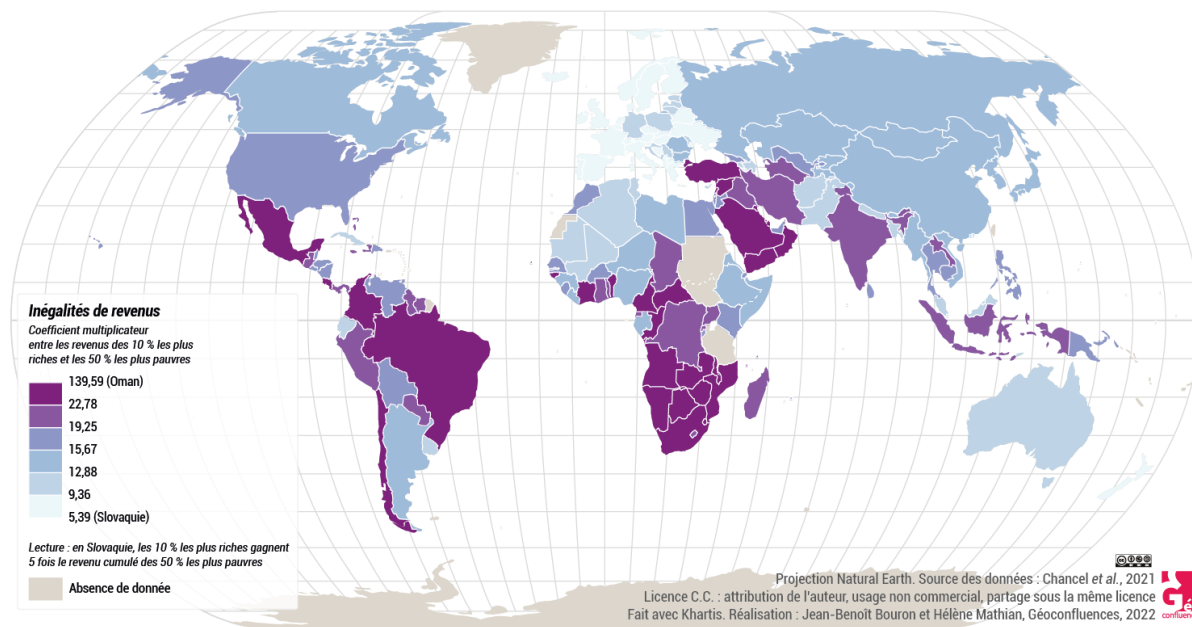
Carte D : Evolution du PIB par habitant sur 20 ans



Carte E : Dépenses des ménages par habitant (en \$)



Carte F : Inégalités de revenus entre les plus riches et les plus pauvres



- 1.** Le taux de fécondité (ou indice synthétique de fécondité - ISF) représente le nombre d'enfant moyen par femme en âge de procréer. Dans quel pays une femme a-t-elle en moyenne le plus d'enfants ? Combien ?

Sur la Carte A, la légende nous renseigne qu'il s'agit du Niger, pays d'Afrique de l'Ouest, avec en moyenne 6,82 enfants par femme.
- 2.** Comment se nomment les 3 grandes régions où le taux de fécondité est le plus haut ?

Afrique Centrale, Afrique de l'Ouest, Afrique de l'Est. Dans une moindre mesure, on accèterait également l'Afrique Australe et le Moyen-Orient.
- 3.** Comparez la carte A à la carte B. Quelles conclusions tirez-vous ?

Ces deux cartes sont très similaires : un haut taux de mortalité infantile coexiste souvent avec un haut taux de fécondité. Ceci est dû à plusieurs raisons interconnectées, principalement liées aux conditions socio-économiques, à l'accès aux soins de santé et aux facteurs culturels. Dans certaines sociétés, avoir beaucoup d'enfants est une stratégie de survie en raison des incertitudes quant à la survie des nourrissons. Les familles ont plus d'enfants pour compenser les pertes potentielles dues à la mortalité infantile élevée. De plus, dans les sociétés agricoles, une grande descendance est perçue comme un avantage économique, car les enfants contribuent souvent au travail familial dès leur jeune âge.
- 4.** Sur la carte du PIB par habitant (Carte C), que peut-on dire de la situation de la Triade ?

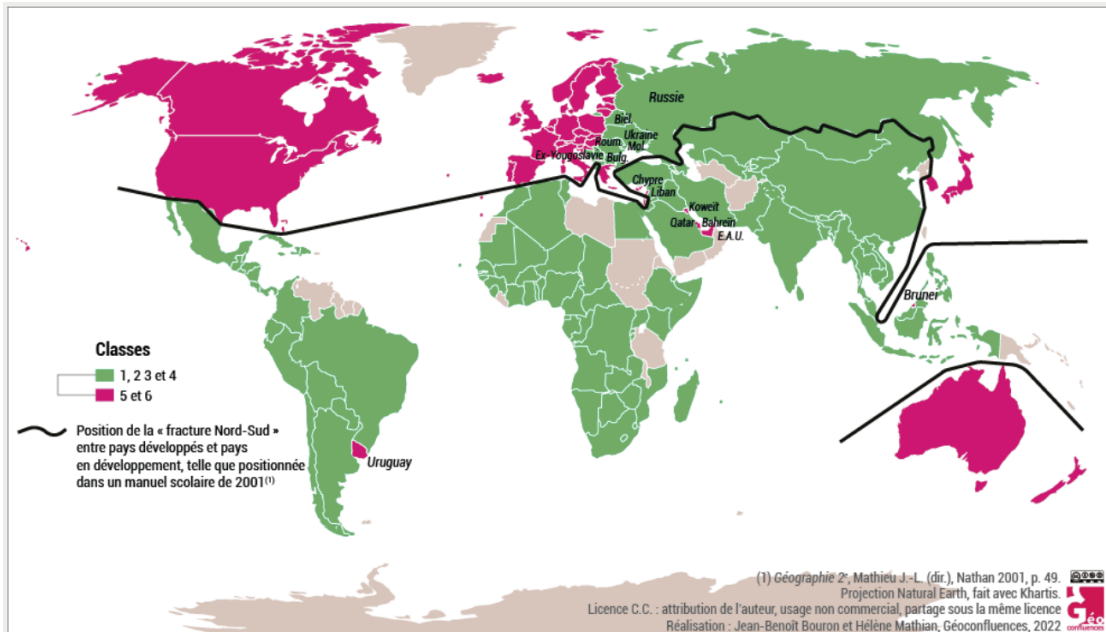
Les plus hautes valeurs sont enregistrées dans les pays de la Triade (Amérique du Nord, Europe de l'Ouest, Japon). La Triade représente effectivement les trois régions du monde les plus puissantes économiquement, d'où un PIB (produit intérieur brut) élevé.
- 5.** Est-ce que les pays les plus puissants économiquement (Carte C) sont aussi ceux dont le PIB grandit le plus rapidement (Carte D) ? Pourquoi ?

Non. Les pays les plus puissants économiquement, avec un haut PIB, tendent à « plafonner », c'est-à-dire à ne pas parvenir à croître encore bien davantage. Les économies développées, ayant déjà un PIB élevé, partent d'une base beaucoup plus importante. Cela signifie que pour atteindre des taux de croissance élevés, elles doivent générer des quantités énormes de nouvelles richesses, ce qui est plus difficile à réaliser comparé aux pays en développement qui partent d'une base plus faible. Cela s'appelle la loi des rendements décroissants.
- 6.** Dans quelles grandes régions se situent les pays les plus inégalitaires ? Pourquoi est-ce un problème qu'il s'agisse justement de ces pays-là ?

Sur la Carte F, on notera principalement des inégalités de revenus en Afrique Australe surtout, et dans une moindre mesure en Afrique Centrale, au Proche-Orient, en Amérique Centrale et en Amérique du Sud. Ceci pose problème, car ces pays font généralement partie des régions parmi les moins développées au monde, aggravant ainsi encore la condition des ménages à bas revenus. Si les revenus étaient mieux répartis, la situation économique des habitants serait sans doute bien meilleure, tout comme celle du pays. Par ailleurs, des inégalités économiques profondes peuvent générer des tensions sociales, des frustrations et des ressentiments entre les différentes classes sociales. Lorsque les écarts de revenus sont très marqués, cela peut engendrer des conflits, des protestations et même des violences, car une grande partie de la population se sent exclue des bénéfices de la croissance économique.

7. En quoi l'ancienne limite Nord-Sud n'est-elle plus vraiment exacte ?

La ligne "Nord-Sud" est un concept géopolitique qui divise le monde entre les pays développés du "Nord" (Europe, Amérique du Nord, Japon, Australie) et les pays en développement du "Sud" (Afrique, Asie, Amérique latine), depuis les Trente Glorieuses (1945-1975). Cependant, ce modèle ne correspond plus vraiment à la réalité actuelle du développement à mesure que les économies mondiales se diversifient et que de nouveaux pôles de croissance émergent. Le développement est désormais une réalité beaucoup plus complexe, avec des pays du Sud en plein essor (notamment BRICS+ et pays du Golfe), des pays du Nord confrontés à des défis croissants (p.ex Europe de l'Est), et des relations accrues entre toutes les nations (migrations, fuite des cerveaux, économie du numérique, libéralisation du commerce...).



Sur la carte ci-dessus, la ligne noire représente l'ancienne limite Nord-Sud. La couleur magenta illustre la situation actuelle avec les pays dits « favorisés ». On observe que certains pays « du Nord » ne font plus partie des pays favorisés, alors que certains pays « du Sud » le deviennent. Cette dynamique tend à s'intensifier au fil des années. Plutôt que de décider d'une limite géographique entre deux « types de monde », il est désormais plus juste de répartir les pays en 6 classes économiques, comme proposé sur la carte de la question 8.

